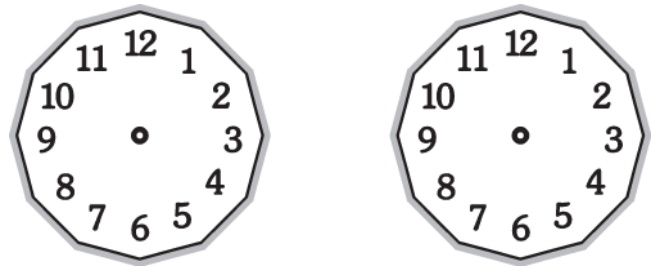


4. По дороге в кино ребята увидели несколько дорожных знаков. Раскрась разрешающие знаки голубым цветом, а запрещающие — красным.



5. Отметь на часах слева время начала сеанса (10:00), а на часах справа — время его окончания (11:00). Нарисуй стрелки.



6. Тебе интересно узнать название мультфильма, который посмотрели ребята? Тогда реши примеры и заполни таблицу.

$$7 + 5 = \square\square \quad (\text{С})$$

$$9 + 10 = \square\square \quad (\text{Ф})$$

$$20 - 10 = \square\square \quad (\text{У})$$

$$7 + 0 = \square \quad (\text{Р})$$


$$6 + 8 = \square\square \quad (\text{М})$$

$$11 - 5 = \square \quad (\text{И})$$

$$14 - 6 = \square \quad (\text{К})$$

12	14	10	7	19	6	8	6

Оцени свою работу:



СЛЕДСТВИЕ ВЕДУТ КОЛОБКИ.

1. Одна бабушка поручила Колобку проследить за её внуком и выяснить, соблюдает ли мальчик режим дня. Колобок провёл расследование и выяснил, что мальчик режим дня соблюдает. К сожалению, Колобок перепутал все снимки. Пронумеруй их в нужном порядке.



№



№



№



№




№



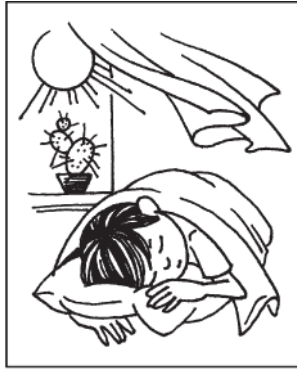
№



№



№



№

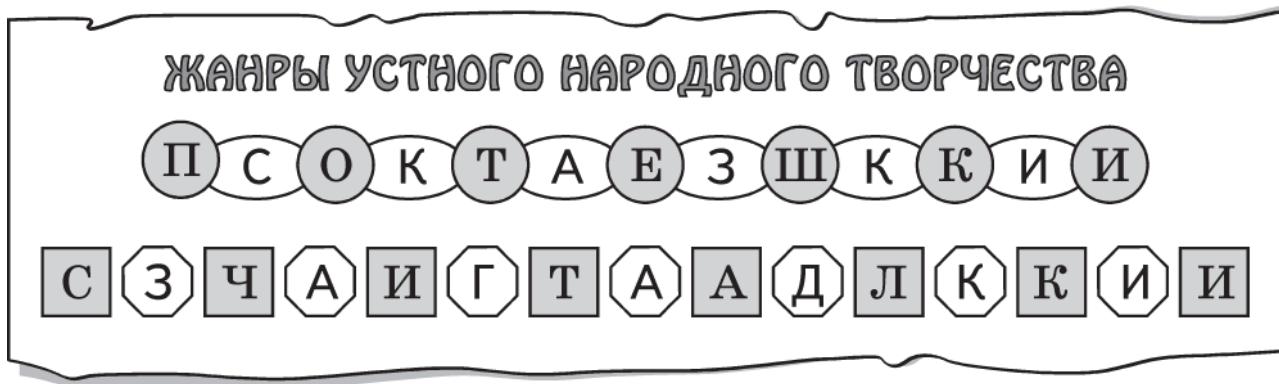


№

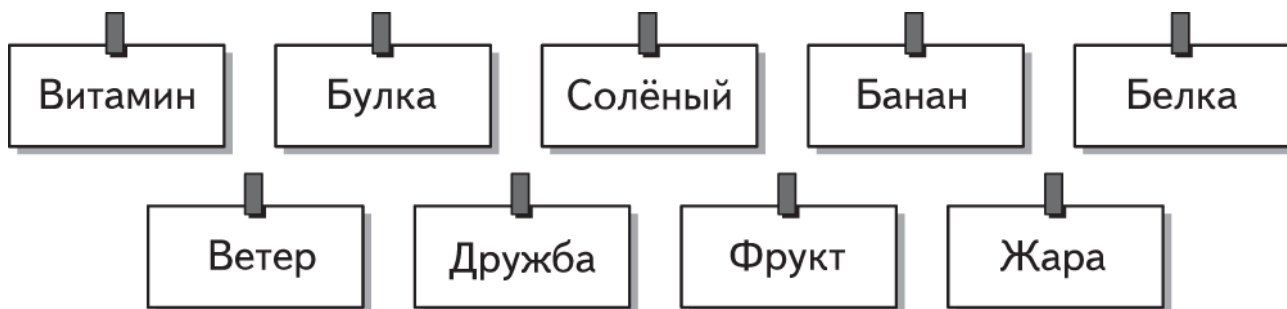


№


2. Однажды Колобок, спеша на очередное место происшествия, нашёл интересную записку. Буквально за одну минуту он смог её прочитать. Попробуй и ты. Слова запиши.



3. В бюро у Колобка работает несколько агентов. Их позывные — слова, начинающиеся с твёрдого согласного звука. Раскрась соответствующие бейджики.




4. Однажды Колобку пришлось искать пропавшие кубики с буквами. Вот тут-то ему грамотность и пригодилась. Колобок — отличный сыщик, он всё вернул на свои места. Попробуй и ты — впиши пропущенные буквы.



КАК ХЛЕБ НА СТОЛ ПОПАДАЕТ.

Мы опять отправляемся в путешествие, только на этот раз вместе с зёрнышком пшеницы. Наше путешествие будет не простое, а ЗАГАДОЧНОЕ.

1. Загадка первая: “С чего всё начинается?”



Конь стальной
Овса не просит.
Весной пашет,
Летом косит.

(_____)

- Ты отгадал загадку? А теперь впиши слово-отгадку на месте пропусков в задаче, выбери верное решение и запиши ответ.

Один _____ вспахал за неделю 2 поля.
Сколько полей вспашут за неделю
3 таких _____?


$2 + 3 = \square$

$3 + 3 = \square$

$2 + 2 + 2 = \square$

Ответ: _____

2. Поле вспахано. А что дальше — ты узнаешь, отгадав вторую загадку. Для этого реши примеры.



Выкинем —
Не обеднеем.
Соберём —
Разбогатеем.

7	12	8	13	9

$12 - 5 = \square$ (П)

$17 - 8 = \square$ (В)

$10 + 2 = \square\square$ (О)

$8 + 5 = \square\square$ (Е)

$15 - 7 = \square$ (С)