

## КТО ЖИВЁТ В ВОДЕ?

1. Отгадай загадку. Отгадку нарисуй.

Без воздуха живёт,  
Холодная, как лёд,  
Не хочет пить, а пьёт.  
Бронёй блестит, но не звенит  
И всё молчит, молчит.



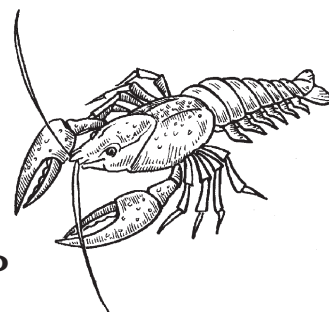
- Выпиши из загадки все глаголы.

---

---

2. В каждой строке зачеркни “лишнее” слово. Устно объясни, почему оно “лишнее”.

- 1) МОРЕ, РЕКА, ФОНТАН, АКВАРИУМ
- 2) ЧЕШУЯ, ПЕРЬЯ, ХВОСТ, ПЛАВНИКИ
- 3) ЖУК-ПЛАВУНЕЦ, УЛИТКА, ОСА, РАК
- 4) КУВШИНКА, КАМЫШ, РЯСКА, КЛЕВЕР



3. Расположи буквы так, чтобы получились названия животных, которые живут в воде. Запиши.

Л, А, К, У, А


Г, Я, Л, У, Ш, К, А

Ф, И, Н, Ъ, Д, Е, Л

П, Е, Р, Е, Ч, А, Х, А

К, У, Т, А

Д, И, Л, О, К, Р, О, К



---

---



6. Прочитай рассказы Святослава Сахарнова. В скобках обведи нужную букву. Выполни задания к текстам.

## КТО ЖИВЁТ В ТЁПЛОМ МОРЕ

### Кашалот

Плыл по океану кашалот. Остановился, набрал полную гру(д,т)ь воздуху, н(а,о)здрю закрыл, хвос(д,т) флагом вверх выбросил — пошёл на глубину.

Полчаса проходит. Час. Нет кашалота.

Наконец вынырнул.


— Долго же ты!

— За кальмаром гонялся. И что это он так от меня кинулся?

— Зубы твои разглядел.

— Так ведь там внизу т(е,и)мно. Как же он мог их увидеть?

— А у него каждый гла(з,с) — с колесо.



- Чем питается кашалот? Составь и запиши предложение.
- 

- Запиши, сколько минут составляют полчаса и час.

Полчаса: \_\_\_\_\_ мин; час: \_\_\_\_\_ мин.


### Осьминог

По дну осьминог то, как клу(б,п) дыма, катится, то, как пау(г,к), ноги переставляет. Видит, навстречу ему кра(б,п).



## ПРО ТЕБЯ.

1. Вот забавная таблица,  
На таблице только лица.  
Повнимательней взгляни:  
Очень строгому закону подчиняются они.  
Нарисуй “портрет” в пустой клетке.



2. Реши примеры и узнай, что нужно сделать, чтобы с кем-то подружиться.

$32 + 9 = \square\square$	(Б)	$100 - 90 = \square\square$	(Ы)
$65 - 8 = \square\square$	(Я)	$23 + 0 = \square\square$	(Л)
$39 + 1 - 20 = \square\square$	(Т)	$73 + 8 - 1 = \square\square$	(Б)
$57 - 8 + 1 = \square\square$	(У)	$34 + 12 + 6 = \square\square$	(С)
$44 - 40 + 8 = \square\square$	(Н)		

50	23	90	80	12	50	20	41	52	57

3. Расскажи немного о своей семье: допиши предложения и добавь что-нибудь от себя.

## МОЯ СЕМЬЯ

Меня зовут \_\_\_\_\_. Моя семья  
состоит из \_\_\_\_\_ человек. Это

---



---




---



---



---



- Попробуй нарисовать свой портрет.

6. Разгадай кроссворд.

**СТРОЕНИЕ ЧЕЛОВЕКА:  
части тела и внутренние органы**

7. Отгадай загадки. Соедини с отгадками.

? Если б не было его,  
Не сказал бы ничего.

? Брат с братом через дорожку живут,  
А друг друга не видят.

? Между двух светил я в середине один.

? Близнецы-братья по разные стороны живут,  
Одну работу делают.

