

1 Природа и человек

1. Найдите ошибочное суждение.

- А) Человек является частью природы и не может существовать вне ее.
- Б) Естественная природная среда способствует восстановлению духовных и физических сил человека.
- В) Искусственная среда обитания и блага цивилизации способствуют укреплению физического и психического здоровья человека.
- Г) Создавая искусственную среду обитания, человек разрушает природу.

2. Какие из перечисленных ниже предметов и явлений относятся к естественной среде обитания, а какие — к искусственной? Выпишите соответствующие цифры.

- | | | |
|------------|--------------|-------------|
| 1) паук | 6) овраг | 11) мусор |
| 2) самолет | 7) компьютер | 12) асфальт |
| 3) фабрика | 8) пчела | 13) песок |
| 4) дерево | 9) трамвай | 14) птицы |
| 5) ручей | 10) трава | 15) воздух |

ЕСТЕСТВЕННАЯ среда обитания: _____

ИСКУССТВЕННАЯ среда обитания: _____

3. Подумайте, какие преимущества имеет человек, проживающий в сельской местности, по сравнению с горожанином.

4. Заполните пропуски в таблице.

**Влияние искусственной среды обитания
на жизнь и здоровье человека**

Предмет искусственной среды	Положительное влияние	Отрицательное влияние
Жилище		Отгораживает от природы, создает замкнутое пространство
Промышленное предприятие		Загрязняет окружающую среду отходами производства, является источником шума
Транспорт	Обеспечивает быстрое передвижение, комфорт	
Электрические приборы		Электромагнитные волны отрицательно влияют на здоровье, способствуют угнетенному состоянию человека
Компьютер	Получение информации, общение	


5. Как вы думаете, каким образом можно снизить неблагоприятное влияние искусственной среды обитания на здоровье жителей вашего города (села)?

2

Ориентирование на местности и подготовка к походу

1. Что включает в себя умение ориентироваться на местности?

2. Дорисуйте схему определения сторон горизонта по солнцу и часам в летнее время.



3. По каким природным признакам можно определить направление на север?


4. Заполните пропуски.

Самый надежный способ определения сторон горизонта — с помощью _____.

Ночью определить стороны горизонта можно по _____
_____ звезде, принадлежащей созвездию _____
_____.

Для определения своего местонахождения по карте прежде всего необходимо сориентировать ее относительно _____, то есть верхняя сторона карты должна «смотреть» на _____.

5. Сделайте план изображенного фрагмента местности, учитывая, что деревня находится к югу от леса.



6. Что включает в себя подготовка к однодневному походу?

3

**Определение места для бивака
и организация бивачных работ**

1. Заполните таблицу.

Места для туристических стоянок

Подходящие	Неподходящие


2. Какие правила необходимо соблюдать при разведении костра?






3. Какие дрова более всего подходят для разведения костра?
(Подчеркните.)

Сырые, гнилые, мелкие, сухие, осиновые, березовые, еловые, пихтовые, ольховые, сосновые, кедровые.

4. Подпишите названия типов костров. Какой из них вы бы использовали в ветреную, дождливую погоду? (Обведите.)





5. Подробно опишите способ и порядок приготовления одного из блюд в походных условиях (каши, макарон, киселя и т.п.).

6. Перечеркните рисунки, изображающие неправильное обращение с топором.

