



- 18.** Вася набирает на клавиатуре 10 символов за 8 с. Текст, который ему поручила набрать Мария Ивановна, содержит 477 символов, а до начала мультфильма осталось 10 мин. Успеет ли Вася за это время выполнить поручение? На сколько больше или меньше символов он наберёт?




Решение:



Ответ: _____

- 19.** Почему солнечные лучи называют именно лучами, а не отрезками или прямыми? В чём тут дело?



20. Начерти луч. Отметь на нём точку “ноль”. Затем отметь точками места (условно), которые займут Вася, Васин кот Василий и Васин папа. Объясни своё решение.






21. Вычисли и сравни выражения.


1) $1\ 100\ 000 : 10 + 110$ $50\ 500 : 100 \cdot 1000$

2) $65\ 000\ 000 : 5 - 12\ 000\ 000$ $100 \cdot 100 \cdot 100 + 1000 : 100$

3) $(10 + 1) \cdot 100 + 1000$ $(210\ 000 - 10\ 000) : 1000$

22. ABC — острый, KMN — тупой, NPK — прямой. Построй углы. Запиши название вершины каждого угла.





23. Построй прямоугольный треугольник, в котором BAC — прямой. Какими будут два остальных угла — острыми, тупыми?
