




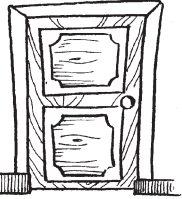

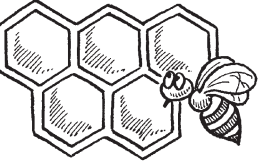







ЧИСЛА ОТ 1 ДО 1000. СЛОЖЕНИЕ, ВЫЧИТАНИЕ, УМНОЖЕНИЕ И ДЕЛЕНИЕ

1. Разгадай ребусы. Запиши числа прописью и цифрами.

Как разгадывать ребусы. Запятая перед рисунком означает, что в слове нужно убрать одну букву с начала; запятая после рисунка означает, что в слове нужно убрать букву с конца. Сколько запятых, столько и букв.

<p>1</p> <div style="display: flex; align-items: center; justify-content: center;">  ,  </div> <p style="text-align: center; margin: 5px 0;">$p = c$</p> <div style="display: flex; justify-content: space-around; margin-top: 10px;"> <div style="border: 1px solid black; width: 100px; height: 20px;"></div> <div style="border: 1px solid black; width: 50px; height: 20px;"></div> </div>	<p>4</p> <div style="display: flex; align-items: center; justify-content: center;">   ,  </div> <div style="display: flex; justify-content: space-around; margin-top: 10px;"> <div style="border: 1px solid black; width: 100px; height: 20px;"></div> <div style="border: 1px solid black; width: 50px; height: 20px;"></div> </div>
<p>2</p> <div style="display: flex; align-items: center; justify-content: center;">  ” ”  </div> <div style="display: flex; justify-content: space-around; margin-top: 10px;"> <div style="border: 1px solid black; width: 100px; height: 20px;"></div> <div style="border: 1px solid black; width: 50px; height: 20px;"></div> </div>	<p>5</p> <div style="display: flex; align-items: center; justify-content: center;">  </div> <div style="display: flex; justify-content: space-around; margin-top: 10px;"> <div style="border: 1px solid black; width: 100px; height: 20px;"></div> <div style="border: 1px solid black; width: 50px; height: 20px;"></div> </div>
<p>3</p> <div style="display: flex; align-items: center; justify-content: center;">  , </div> <div style="display: flex; justify-content: space-around; margin-top: 10px;"> <div style="border: 1px solid black; width: 50px; height: 20px;"></div> <div style="border: 1px solid black; width: 50px; height: 20px;"></div> </div>	<p>6</p> <div style="display: flex; align-items: center; justify-content: center;">  ”” ,  ,  ,  </div> <div style="display: flex; justify-content: space-around; margin-top: 10px;"> <div style="border: 1px solid black; width: 100px; height: 20px;"></div> <div style="border: 1px solid black; width: 50px; height: 20px;"></div> </div>

2. Запиши число цифрами.

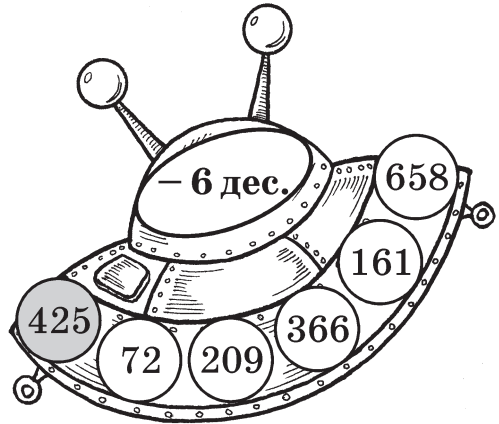
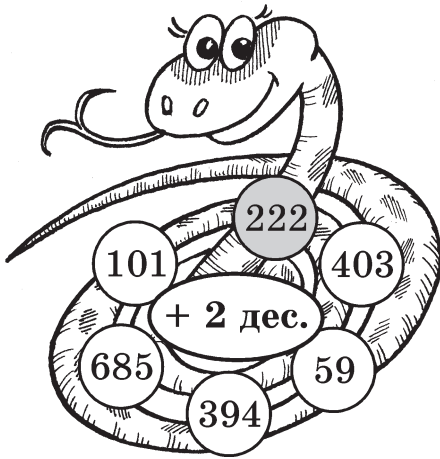
1) 1 сот. 3 дес. 0 ед. =

2) 4 сот. 0 дес. 9 ед. =

3) 6 сот. 2 дес. 5 ед. =

4) 2 сот. 0 дес. 2 ед. =

3. Выполни действия, начиная с выделенного числа. Запиши ниже только ответы через запятую.



4. Подбери числа и узнай, какое трёхзначное число задумано.

$$\begin{array}{ccc} ? & ? & ? \\ \star & \bigcirc & \square \end{array}$$

$$\star + \bigcirc = 8$$

$$\bigcirc : \star = 3$$

$$\bigcirc - \star = 4$$

$$\bigcirc \cdot \square = 0$$

7. Вычисли удобным способом.

1) $44 + 18 - 8 + 206 = \square\square\square$

2) $112 - 76 + 64 + 314 = \square\square\square$

3) $87 + 203 - 102 - 101 = \square\square$

4) $101 + 19 - 101 - 10 = \square$

8. Реши примеры и узнай, какая из дорожек приведёт ежа к яблоку. Ответ предыдущего примера является началом следующего.

$133 - 63 = \square\square$



$84 : 4 + 10 = \square\square$

$\square\square : 6 = \square\square$ (ост. \square)

$\square\square \cdot 3 + 5 = \square\square$

$\square \cdot 12 = \square\square$

$$\begin{array}{r} \square\square \\ + 102 \\ \hline \square\square\square \end{array}$$

$$\begin{array}{r} \square\square \\ + 96 \\ \hline \square\square\square \end{array}$$

$\square\square\square - 24 \cdot 4 = \square\square\square$

$\square\square\square + 94 : 2 = \square\square\square$

$\square\square\square + 314 = \square\square\square$

$\square\square\square + 205 = \square\square\square$



$\square\square\square - 16 \cdot 3 = \square\square\square$


При записи числа римскими цифрами одна и та же цифра **может повторяться не более трёх раз**. Поэтому, например, число 40 записывают так:

XL (что означает “10 вычесть из 50”), а не XXXX.


11. Составь из шести палочек числа. Запиши.




25



17




22



30

12. Прочитай текст. Запиши в скобках числа арабскими цифрами.



Ты, конечно, слышал бой кремлёвских курантов. А знаешь ли ты, откуда они взялись?

Кремлёвские куранты были куплены Петром I () в Голландии и доставлены в Москву на XXX () подводах. В начале XVIII () века они были установлены на VIII ()–X () этажах Спасской башни Московского Кремля.

Часы заводятся II () раза в сутки: в XII () и в XXIV () часа. Диаметр циферблата — VI () м XII () см. Высота римских цифр, обозначающих часы, — LXXII () см. Длина часовой стрелки — II () м LXXXVII () см, минутной — III () м XXVII () см.