



## РАБОТА № 3 Второй десяток. Сложение и вычитание

1. Решите примеры.

$8 + 5 - 6 = \square$


$14 - 4 - 6 = \square$

$3 + 10 - 0 = \square$

$12 - 10 + 0 = \square$

2. Запишите решение и ответ задачи.

Карлсону подарили 7 банок малинового варенья и 3 банки абрикосового. Сколько всего банок варенья подарили Карлсону?



3. Укажите длину отрезка.





1) 5 см

2) 6 см

3) 7 см

4. Напишите, сколько времени показывают часы.



\_\_\_\_\_

\_\_\_\_\_

**РАБОТА № 4    Второй десяток. Сложение и вычитание**

1. Укажите примеры с ответом 8.

$6 + 2 \square$

$9 - 1 \square$

$7 + 2 \square$

$10 - 3 \square$

$10 - 1 \square$

$3 + 5 \square$

$4 + 4 \square$

$18 - 10 \square$

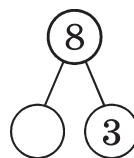

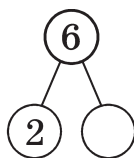
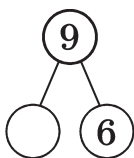
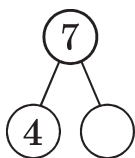
$4 + 3 \square$

$1 + 7 \square$

$9 - 2 \square$

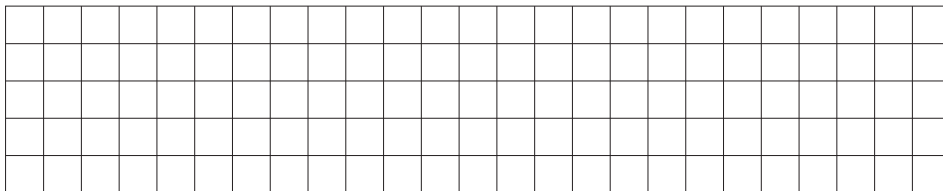
$4 + 5 \square$

2. Заполните пустые кружки.



3. Запишите решение и ответ задачи.

Для детского сада купили 16 игрушек: мячи и прыгалки.  
Сколько купили мячей, если прыгалок купили 6?



4. Начертите отрезок, длина которого на 3 см меньше длины данного.



1. Решите примеры.

$7 + 5 = \square$

$8 + 6 = \square$

$15 - 7 + 2 = \square$

$8 + 3 = \square$

$9 + 2 = \square$

$8 + 3 - 4 = \square$

$6 + 7 = \square$

$9 + 5 = \square$

$16 - 5 - 10 = \square$

2. Сравните числа. Поставьте в кружки знаки  $>$ ,  $<$  или  $=$ .

$10 \bigcirc 16$

$14 \bigcirc 10$

$17 \bigcirc 20$

$13 \bigcirc 13$

$15 \bigcirc 18$

$19 \bigcirc 12$

3. Запишите все числа, которые больше 15, но меньше 19.

--	--	--	--	--	--	--	--	--	--	--	--	--	--	--	--	--	--	--	--	--

4. Укажите верное решение задачи.

На тарелке лежало 9 слив, а абрикосов — на 4 больше.  
Сколько абрикосов лежало на тарелке?

1)  $9 + 4 = 13$

2)  $9 + (9 - 4) = 14$

3)  $9 - 4 = 5$

5\* Укажите верный ответ.

К станции подошла электричка из 14 вагонов. Света села в седьмой вагон, если считать с “головы” поезда. В каком вагоне будет ехать Света, если считать с “хвоста” поезда?

1) 7

2) 9

3) 8

