

Простые задачи

- 1.** В саду посадили 3 саженца груш и столько же саженцев слив. Сколько всего деревьев посадили в саду?

Дополни краткое условие и реши задачу.

Груш — 3 с. ? с.
Слив — □ с.

Решение:

--	--	--	--	--	--	--	--	--	--	--	--	--	--	--	--	--	--	--	--	--	--	--	--	--

Ответ: _____

- 2.** Миша нашёл под сосной несколько маслят. Когда он срезал 3 гриба, там осталось ещё 5 грибов. Сколько всего маслят нашёл Миша под сосной?

Дополни краткое условие и реши задачу.

Срезал — □ гр. ? гр.
Осталось — □ гр.

Решение:

--	--	--	--	--	--	--	--	--	--	--	--	--	--	--	--	--	--	--	--	--	--	--	--	--

Ответ: _____

100. В сказке 20 страниц. Половину сказки Маша уже прочитала. Сколько страниц ей осталось прочитать?

Решение:

--	--	--	--	--	--	--	--	--	--	--	--	--	--	--	--	--	--	--	--

Ответ: _____

101. В столовой было 18 кг масла. За неделю половину масла израсходовали. Сколько килограммов масла осталось?

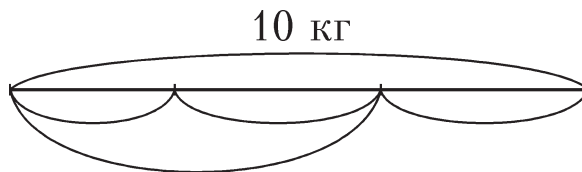
Решение:

--	--	--	--	--	--	--	--	--	--	--	--	--	--	--	--	--	--	--	--

Ответ: _____

102*. Кошка и две одинаковые собаки вместе весят 10 кг. А эта же кошка и одна из собак — 6 кг. Сколько весит каждая из собак и сколько весит кошка?

Дополни чертёж к задаче и реши её.



130. В слове три буквы. Буква Т не стоит между буквами О и К, а буква К не стоит после буквы Т. Назови слово.


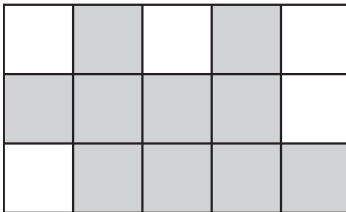
--	--	--	--	--	--	--	--	--	--	--	--	--	--	--	--	--	--	--	--	--

Ответ: _____

131. Нарисуй фигуры (круг, треугольник и квадрат) в таблице согласно подписям.

НЕ круг	НЕ круг и НЕ квадрат	НЕ квадрат

132. Разбей серую фигуру на две одинаковые части. Проведи жирную ломаную линию.



133. Найди “лишнее” слово. Подчеркни его. Объясни, почему оно “лишнее”, на твой взгляд.

СТО, СТОЛ, СТУЛ, СТОЛЬ, СТОП, ТЕСТО.

Ответ: _____

134. Даны числа:

3, 17, 6, 11, 0, 9, 4, 16.

Выпиши все двузначные числа, которые больше 12.

--	--	--	--	--	--	--	--	--	--	--	--	--	--	--	--	--	--	--	--	--

Выпиши числа, которые меньше 9, и числа, в записи которых есть цифра 6.

--	--	--	--	--	--	--	--	--	--	--	--	--	--	--	--	--	--	--	--	--

135. Продолжи ряд чисел.

1) 16, 12, 8, ...,

2) 20, 10, 18, 9, 12, ..., 8,

136. Расставь знаки “+” и “-” и получи заданный ответ.

$$6 \bigcirc 3 \bigcirc 6 \bigcirc 2 \bigcirc 7 = 20$$

137. Прочитай. Сделай правильный вывод. Обведи букву верного ответа.

- 1) У птицы 2 ноги. У коровы 4 ноги, а у пингвина 2 ноги. Значит, ...
- а) всего у коровы и пингвина 6 ног.
 - б) корова — не птица.
 - в) у пингвина на 2 ноги меньше, чем у коровы.
- 2) Все рыбы живут в воде. Собака не живёт в воде. Значит, ...
- а) собака не умеет плавать.
 - б) собака боится воды.
 - в) собака — не рыба.

138. На детскую площадку пришли Соня, Катя и Лена и принесли с собой три игрушки: мяч, куклу и ведёрко. У Сони не было ведёрка, а у Кати не было ни ведёрка, ни мяча. Кто с чем пришёл?

Начертим таблицу и будем её заполнять.

	Мяч	Кукла	Ведёрко
Соня			не было
Катя	не было	+	не было
Лена			