


3. Выполни деление с остатком и проверку.

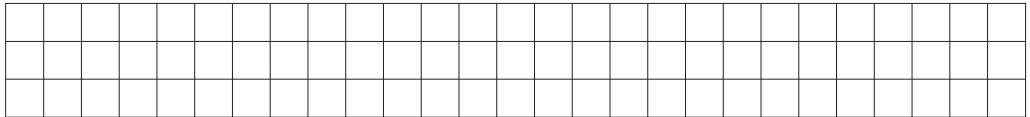
$$7809 : 4 = \underline{\quad\quad\quad} \text{ (ост. } \underline{\quad})$$

$$6332 : 5 = \underline{\quad\quad\quad} \text{ (ост. } \underline{\quad})$$



Проверка:


Проверка:



4. В квадрате со стороной 3 дм закрасили одну девятую часть. Какая площадь квадрата осталась незакрашенной?

Сделай схематический чертёж и реши задачу.

Решение:




Ответ: _____

5. В помещении на 300 м^2 пола была положена плитка, по 9 штук на 1 м^2 , и на 500 м^2 стен, по 24 штуки на 1 м^2 . Сколько всего штук плитки при этом было израсходовано? На сколько штук больше плитки израсходовали на стены, чем на пол?

	Расход на 1 м^2	Количество кв. метров	Общий расход
На пол			
На стены			

Решение:



Ответ: _____